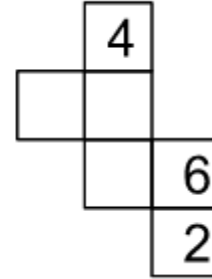
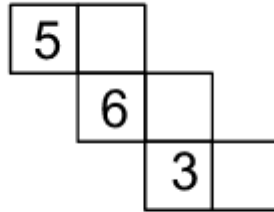
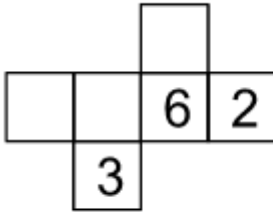


Dados numéricos

Cubos numéricos

Con cada una de estas figuras se puede construir un cubo. Escribir las cifras que faltan, sin que haya ninguna repetida, de manera que las de cada par de caras opuestas sumen 7.



SOLUCIÓN

Sin mas que probar figurando como sería el dado, la solución será:

